

VERSION ENSEIGNANT CORRIGÉE

DÉCOUVERTE DE LA VILLE DE TROYES

SECTEUR MADELEINE

Case réponse N°1

La plupart des maisons du cœur historique répondent à des critères de développement durable et utilisent des matériaux écologiques non polluants et isolants. Construites il y a plus de 350 ans, ces maisons à pans de bois avec hourdis en torchis, encorbellement, pignon, ont de magnifiques charpentes en bois.

De quelle essence de bois s'agit-il ?

Hêtre= **N**

Chêne= **L**

Pin noir= **J**

Case réponse N°2, lieu D

Sculpté par Jean GUAILDE, ce rare et magnifique Jubé de Pierre, véritable dentelle ciselée, trône au milieu de l'église Sainte Madeleine.

A quelle période a-t-il été conçu ?

de 1508 à 1517= **E**

de 1626 à 1632= **A**

de 1742 à 1775= **I**

Case réponse N°20

Rendez-vous à l'angle des rues Paillet de Montabert et Charbonnet où vous trouverez une sculpture en pierre.

Laquelle est-ce ?



SECTEUR ST JEAN

Case réponse N°16, lieu 22

La tourelle de l'orfèvre est ainsi nommée en raison du métier de son premier propriétaire. Typique de l'architecture troyenne, elle fût édifée entre 1578 et 1618.

Quelle est la finalité de cette tourelle ?

Une échauguette pour surveiller les environs = **O**

Un lieu de stockage pour les outils et l'or = **E**

Un escalier pour monter aux étages = **P**



Case réponse N°17, lieu B

De chaque côté de la ruelle des chats , sont disposées des pierres debout.

Quel est leur usage ?

Ces pierres servent de chasse roues = **D**

Ces dolmens servent de sièges pour les passants = **K**

Ces bornes délimitent les propriétés = **R**



Case réponse N°18, lieu B

Quelle expression célèbre pouvait-on employer autrefois pour éviter de se salir les pieds dans la ruelle des chats ?(vous pouvez demander aux commerçants de la rue)

Tenir le haut du pavé = **T**

Pierre qui roule n'amasse pas mousse = **A**

Il gèle à pierre fendre = **P**

Case réponse N°19, lieu 13


Aller Cour de Mortier d'Or.

Laquelle de ces 3 lettres n'est pas gravée au dessus de la porte donnant accès à la ruelle des chats.

J=**V**

S=**A**

T=**B**



SECTEUR ST PANTALÉON

Case réponse N°3, lieu 7

L'hotel de Vauluisant, à l'origine hôtellerie des moines cisterciens de l'Abbaye de Vauluisant, abrite 2 musées.

Lesquels ?(demander la lettre à votre professeur si les réponses sont bonnes) **Musée d'Art champenois / Musée de la bonneterie > O**

Case réponse N°4

Combien de tours peux tu visualiser sur cet édifice ?

4 tourelles = **A**

3 tourelles = **O**

2 tourelles = **E**

Case réponse N°5, lieu 2

L'église Saint Pantaléon est un véritable musée de la Statuaire troyenne du XVIème siècle, puisqu'elle fut le refuge de statues sauvées à la révolution.

Laquelle de ces 3 photos ne concerne pas l'église Saint Pantaléon



V



O



D

Case réponse N°7, lieu 2

Quelle est la date gravée au dessus de la maison adossée à l'église Saint Pantaléon ?

1538=**O**

1672=**U**

1953=**Y**



Case réponse N°6, lieu G

Hôtel particulier construit vers 1556 par Jean de Mauroy, contrôleur des aides et tailles, transformé en orphelinat, dirigé par les Frères de la Rédemption de Paris, c'est ici, à l'Hôtel de Mauroy que naît en 1746, l'industrie de la bonneterie troyenne.

Quelle est son affectation depuis 1974 ?

La maison de l'outil et de la pensée ouvrière = **E**


L'école des maisons à ossature bois = **G**

Le musée de l'habitat médiéval et renaissance = **M**

Case réponse N°8, lieu 9

Au 28 rue du général Saussier

Quel est l'intrus parmi ces bouts de poutre ?



SECTEUR CATHÉDRALE

Case réponse N°9, lieu E

Consacrée basilique en 1964, Saint Urbain est un pur joyau de l'art gothique apparentée à la Sainte Chapelle de Paris. Fondée par Jacques Pantaléon (né à Troyes en 1185), élu Pape en 1261 sous le nom d'Urbain IV, Saint Urbain fut construite à l'emplacement de l'échoppe de cordonnier de son père.

Laquelle de ces 3 photos ne concerne pas la basilique Saint Urbain ?



Case réponse N°10

Compte le nombre de grenouille de la fontaine de la place de la Libération et faire le calcul suivant pour déterminer l'année de l'inauguration.

$$\longrightarrow (\text{nombre de grenouilles} \times 20) + 1794 =$$

$$1834 = \mathbf{L}$$

$$1874 = \mathbf{M}$$

$$1914 = \mathbf{P}$$

Case réponse N°11, lieu C

Sur la plaque commémorative à l'angle de la Cathédrale, trouvez la lettre située au milieu d'un mot en comprenant 3, juste au dessus de « cinquième centenaire ».

$$\mathbf{O} = \mathbf{V}$$

$$\mathbf{T} = \mathbf{D}$$

$$\mathbf{I} = \mathbf{P}$$

Case réponse N°12, lieu 18

Au moyen âge, l'Hotel Dieu offrait un abri aux pauvres voyageurs et recueillait les personnes atteintes de maladies mortelles ou guérissables.

Les enfants abandonnés y seront admis au milieu du XVIème siècle.

Sur un mûr de l'Hôtel Dieu, en face du N°5 rue de la cité, vous trouverez un reste gravé dans la pierre qui en atteste.

Quel est ce mot incomplet ?

$$\text{PENS(I)} = \mathbf{I}$$

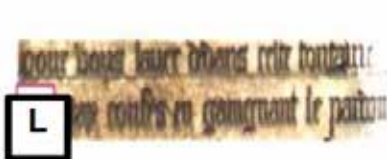
$$\text{ORPHE(L)} = \mathbf{H}$$

$$\text{ENFA(N)} = \mathbf{A}$$

SECTEUR LES HALLES

Case réponse N°13, lieu 3

Quel texte gravé peut-on lire à l'église Saint Rémy



Case réponse N°14

Les Halles furent construites sur la maison des frères Pithou par Bataille, Périsé et Moisant, dans le pur style Baltard qui conjugue le fer, la fonte et le verre. En 1900, pour une ville de 38000 habitants, avec ses 60m sur 42 m et ses 297 places louées aux marchands, c'était l'un des plus vastes marchés de France de conception déjà futuriste.

En quelle année ont-elles été inaugurées ?

$$1899 = \mathbf{E}$$

$$1856 = \mathbf{J}$$

$$1874 = \mathbf{C}$$

Case réponse N°15


Lequel de ces campaniles pouvez-vous apercevoir sur le toit de l'Hôtel de ville ?



D



P



E

Case réponse N°21

Comment appelait on les premiers habitants de la ville de Troyes.

Les troyens=**E**

Les tricasses=**O**

Les troisièmes=**I**

Grille réponse :

| | | | | | | | | | | | | | | | | | | | | |
|----|---|----|----|---|----|---|---|----|---|----|----|---|----|---|---|----|----|---|----|----|
| 19 | 8 | 12 | 15 | 4 | 14 | 3 | 7 | 11 | 2 | 13 | 18 | 6 | 17 | 9 | 1 | 20 | 10 | 5 | 16 | 21 |
| A | L | A | D | E | C | O | U | V | E | R | T | E | D | E | L | A | M | O | P | O |

| | GR1 | GR2 | GR3 | GR4 |
|--------------|-----|-----|-----|-----|
| Madeleine | N°1 | N°5 | N°4 | N°2 |
| St Jean | N°2 | N°1 | N°5 | N°3 |
| St Pantaléon | N°3 | N°2 | N°1 | N°4 |
| Cathédrale | N°4 | N°3 | N°2 | N°5 |
| Les halles | N°5 | N°4 | N°3 | N°1 |
| Nb élèves | 7 | 7 | 7 | 7 |

Chaque adulte/accompagnateur est responsable d'un groupe de 7 élèves.

Le but du jeu est de reconstituer le plus rapidement possible la phrase :

A la découverte de la MOPO

Relever l'heure à laquelle la phrase aura été reconstituée. L'équipe gagnante sera celle qui l'aura fait le plus tôt. Chaque lieu correspond à une lettre. Selon le temps restant, il faudra aider ou pas les élèves pour se rendre sur les lieux d'observation.

Chaque groupe aura 2 cartes de la ville à sa disposition. Ces cartes sont disponibles gratuitement auprès de l'office de tourisme de la ville de Troyes.